

# 2ª Olimpíada de Atualidades

Realização



Patrocínio

BB Conta Universitária



## PROVA 1ª FASE

### 100 questões

**Questão 1** - Leia com muita atenção o texto a seguir:

*“Quando o homem intervém no espaço natural e o transforma, visando a sua ocupação e produção para a sobrevivência, surge o espaço geográfico, ou seja, um espaço construído pela ação humana. No início da nossa história o planeta era dominado pelas paisagens naturais. Hoje, quando o planeta abriga mais de 6 bilhões de pessoas, com necessidade de moradia, trabalho, alimentação, vestuário, educação, saúde, lazer, etc., e o desenvolvimento científico e tecnológico avança a passos largos no sentido de modificar características naturais hostis à vida humana, o espaço geográfico se expande e chega a se confundir com a totalidade da superfície terrestre.”*

Baseando-se no texto e nos conhecimentos geográficos, é **correto** afirmar que:

- A) o espaço natural passou a ser sinônimo de espaço geográfico, não havendo mais nenhuma diferença entre os significados de cada um.
- B) o espaço das áreas ecúmenas vem se expandindo muito rapidamente nos últimos tempos, atingindo parcelas cada vez mais extensas da superfície terrestre.
- C) o desenvolvimento científico e tecnológico tem impedido que a humanidade se veja obrigada a desocupar determinadas áreas que estão se transformando em espaços naturais.
- D) a expansão das áreas anecúmenas do globo terrestre está intimamente relacionada ao rápido aumento populacional do planeta, que tem hoje cerca de 6 bilhões de habitantes.
- E) as características naturais hostis à vida humana só começarão a se transformar em sua totalidade quando, no futuro, o homem tiver tecnologia.

**Questão 2** - (UFPE) — Observe:

- I. Cartografia é a arte de representação gráfica da superfície da Terra, em parte, ou no seu todo, de acordo com a escala.
- II. A representação de uma superfície esférica, num plano (a exemplo do mapa), traz forçosamente deformações que podem ser de distâncias, de áreas e de ângulos.
- III. Nos mapas de grandes escalas, as deformações são muito sensíveis, enquanto nas cartas de pequenas escalas as deformações se tomam pouco importantes.
- IV. As curvas de nível são linhas imaginárias que ligam os pontos situados na superfície da Terra a igual altitude.
- V. Em toda elevação as cotas das curvas de nível diminuem da periferia para o centro, segundo uma proporção constante.

Estão **corretos** apenas os itens:

- A) I, II e III.
- B) II, III e IV.
- C) I, II e IV.
- D) III, IV e V.
- E) II, III e V.

**Questão 3** - O relevo terrestre é resultante da atuação de dois conjuntos de forças denominadas agentes do relevo, que compreendem os agentes internos ou criadores do relevo e os agentes externos ou modificadores do relevo. Podemos considerar agentes **externos** e **internos**, respectivamente:

- A) vulcanismo e intemperismo.
- B) seres vivos e águas correntes.
- C) vento e vulcanismo.
- D) águas correntes e intemperismo.
- E) vulcanismo e abalos sísmicos.

**Questão 4** - Observe o esquema abaixo, que representa a distribuição das camadas internas da Terra:

Crosta (até 40 km de profundidade)	= Temperatura X
Manto superior (até 1.200 km de profundidade)	= Temperatura Y
Manto inferior (até 2.900 km de profundidade)	= Temperatura Z
Núcleo (até 6.300 km de profundidade)	= Temperatura W

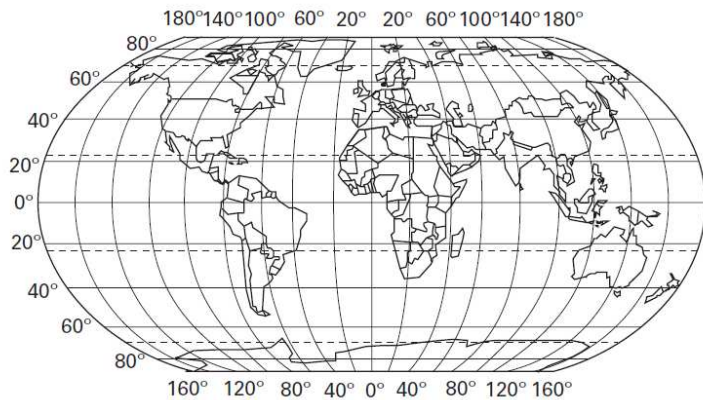
É correto afirmar-se, quanto à variação das temperaturas, que:

- A) Elas aumentam continuamente de X até W.
- B) Elas diminuem continuamente de X até W.
- C) Elas aumentam de X até Y e a partir daí diminuem continuamente até W.
- D) Elas diminuem de X até Z e aumentam apenas em W.
- E) Elas se mantêm inalteradas de X até Y e diminuem continuamente daí até W.

**Questão 5** - A utilização das expressões “hemisfério das terras” e “hemisfério das águas” pode ser considerada correta, quando estiver se referindo, exclusivamente, a que situação?

- A) À distribuição das áreas emersas e submersas na superfície do planeta, correspondendo ao hemisfério Sul a característica de ser o das “terras”.
- B) À distribuição das áreas emersas e submersas na superfície do planeta, correspondendo ao hemisfério Norte a característica de ser o das “terras”.
- C) À distribuição das áreas emersas e submersas na superfície do planeta, correspondendo ao hemisfério Sul a característica de ser o das “águas”, porque os oceanos ocupam quase a metade de seu território.
- D) À distribuição das áreas emersas e submersas na superfície do planeta, correspondendo ao hemisfério Norte a característica de ser o das “águas”, porque os oceanos recobrem cerca de 90% de seu território.
- E) À distribuição das áreas emersas e submersas na superfície do planeta, correspondendo ao hemisfério Norte a característica de ser o das “terras”, porque nessa parte do globo estão situadas as áreas mais desenvolvidas.

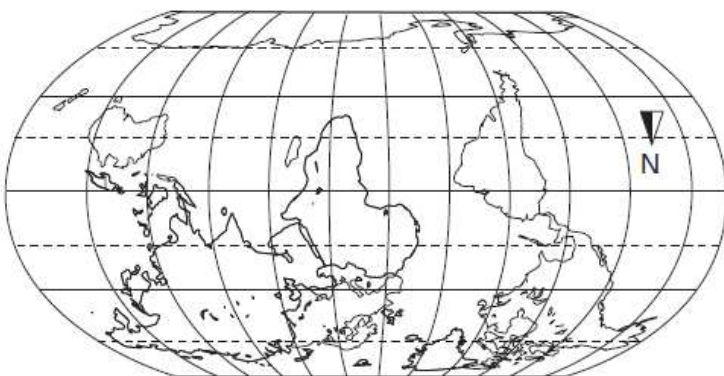
**Questão 6** - Observe o mapa-múndi abaixo:



Qual das alternativas a seguir apresenta uma interpretação **correta** do que está representado?

- A) A Europa e a Ásia são dois continentes que estão fisicamente separados, existindo entre eles, no entanto, uma forte aproximação cultural.
- B) A Ásia é um continente que apresenta terras apenas nos hemisférios norte e leste.
- C) O termo Eurásia refere-se à associação entre a Europa, a Ásia e a África, considerados os lugares de civilização mais antiga do planeta.
- D) Eurásia é o nome do bloco formado por Europa e Ásia, que estão fisicamente ligados, mas que apresentam enormes diferenças culturais, daí serem considerados dois continentes.
- E) A metade norte da África faz parte do que é conhecido como Velho Mundo, enquanto a metade sul faz parte do que é conhecido como Novo Mundo.

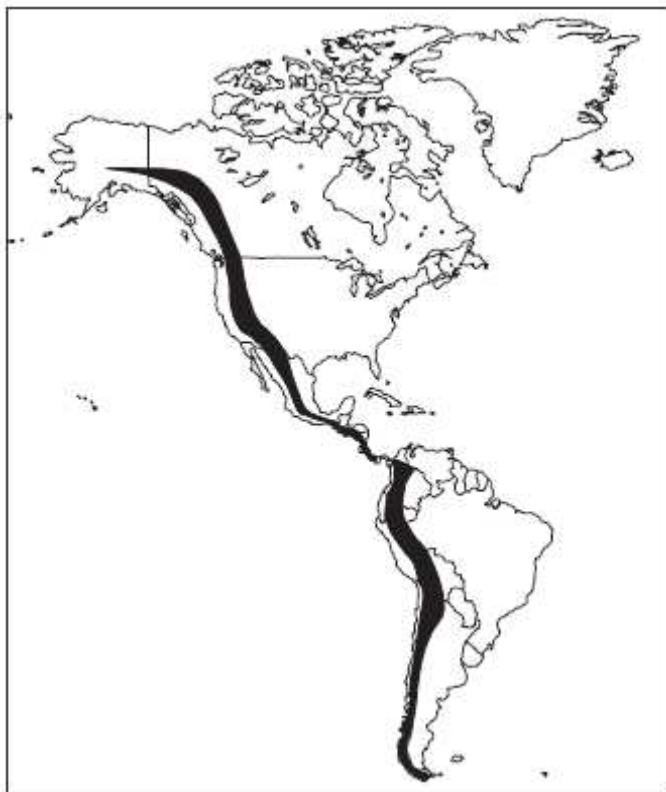
**Questão 7** - (UNIFOR) — Considere o planisfério apresentado a seguir.



A posição desse planisfério pode ser considerada, do ponto de vista cartográfico, como:

- A) correta, devido ao equilíbrio das formas na apresentação do tamanho dos diferentes continentes.
- B) incorreta, devido à redução proporcional das áreas tropicais.
- C) correta, pelo fato de as posições norte/sul representarem apenas convenções políticas internacionais.
- D) incorreta, diante do problema da inversão dos hemisférios norte e sul da Terra, o que dificulta seu reconhecimento.
- E) correta, diante da possibilidade de reformulação das coordenadas geográficas fundamentais.

**Questão 8** - (PUC-RS) — Responder à questão com base na área do continente americano hachurada no mapa, e nas afirmativas a seguir:



- I. Localiza-se no Oeste do continente americano e a Leste da Ásia e Oceania.
- II. É uma área propícia a terremotos e ao vulcanismo, pois, situa-se no limite convergente de placas tectônicas.
- III. Apresenta um relevo acidentado, montanhoso e geologicamente jovem.
- IV. Representa barreira para os ventos úmidos vindos do oceano, sendo que o lado voltado para o oeste chamase sotavento e origina desertos no interior.

Pela análise das afirmativas, conclui-se que está **correta** a alternativa.

- A) I e II.
- B) I, II e III.
- C) I, III e IV.
- D) II, III e IV.
- E) II e IV.

**Questão 9** - (FESP) — Examine atentamente as sentenças a seguir e assinale o grupo das que lhe parecerem **corretas**.

- I. Paralelamente ao Equador ficam dispostos círculos que diminuem de tamanho à proporção que estão mais próximos dos pólos.

II. A latitude de um lugar é medida em km e representa a distância entre dois pontos na superfície do planeta.

III. As coordenadas geográficas compreendem a latitude, a longitude, a distância em metros em relação ao nível do mar e as isoietas.

IV. A longitude é o afastamento, medido em graus, de um meridiano em relação a outro, chamado meridiano de Greenwich.

V. Quando se projeta a rede de paralelos e meridianos sobre o papel, tem-se uma projeção cartográfica.

Assinale:

A) se todas são corretas.

B) se apenas I, II e III são corretas.

C) se apenas I, IV e V são corretas.

D) se apenas II, III e V são corretas.

E) se apenas II, IV e V são corretas.

**Questão 10** - Leia atentamente as afirmações a seguir.

I. Embora a ação desse agente erosivo se verifique em toda a superfície do planeta, ela é mais expressiva nas áreas de ocorrência de climas áridos e semi-áridos.

II. A intensidade da ação desse agente erosivo varia expressivamente com o nível de inclinação da superfície em que esteja atuando.

Os agentes erosivos que atuam na superfície do planeta destacados nas afirmações são, respectivamente:

A) as geleiras e as águas pluviais.

B) as águas fluviais e os ventos.

C) os ventos e as águas pluviais.

D) as águas marítimas e as águas pluviais.

E) as geleiras e as águas pluviais.

**Questão 11** - A formação dos dobramentos modernos no planeta, como os Alpes, o Himalaia, as Rochosas e os Andes, está relacionada com a ação das forças:

A) tectônicas ou modeladoras do relevo terrestre.

B) orogênicas, que dão origem à ocorrência de planícies na superfície do planeta.

C) tectônicas ou formadoras do relevo, que dão origem aos altiplanos presentes na crosta.

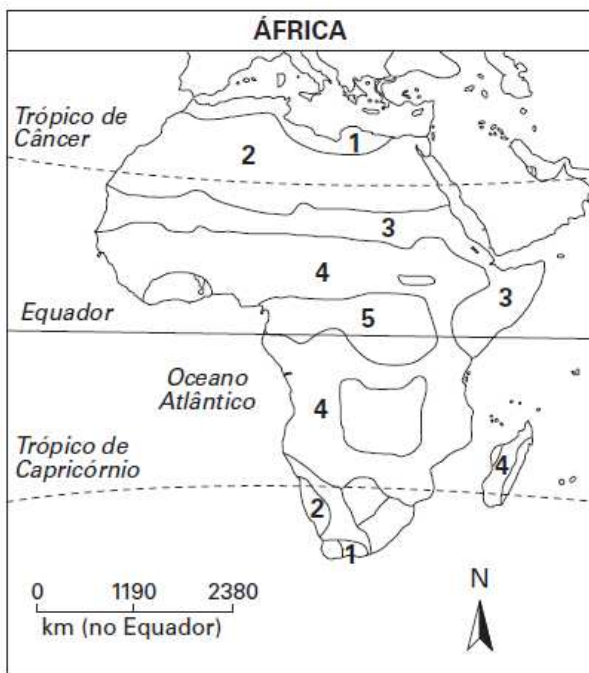
D) epirogenéticas, que dão origem aos dobramentos antigos existentes na superfície do planeta.

E) tectônicas, responsáveis pela formação dos conjuntos montanhosos presentes na crosta.

**Questão 12** - (UFPEL) — O Brasil é o único país da América do Sul que:

- A) ocupa toda a parte centro-ocidental do continente.
- B) está todo situado na zona tropical.
- C) é cortado pelo Equador e pelo Trópico de Capricórnio.
- D) alcança a zona temperada do continente.
- E) possui terras na zona tropical e na zona temperada.

**Questão 13** - (UFJF) — Considerando o mapa, podemos comparar o clima e a vegetação da África obtendo a seguinte relação, **exceto**:



- A) a vegetação que aparece com o número 1 no mapa, ocupando os extremos norte e sul, corresponde ao clima mediterrâneo e recebe os nomes de maquis ou garrigue.
- B) a vegetação que aparece com o número 2 no mapa, ocupando os desertos do Saara e Calaari, corresponde ao clima árido e recebe o nome de xerófita.
- C) a vegetação que aparece com o número 3 no mapa, ocupando as áreas de maior altitude da África, corresponde ao clima temperado e recebe o nome de mata da araucária.
- D) a vegetação que aparece com o número 4 no mapa, ocupando o centro-norte e o centro-sul da África, corresponde ao clima tropical e recebe o nome de savana.
- E) a vegetação que aparece com o número 5 no mapa, ocupando a área central africana, corresponde ao clima equatorial e recebe o nome de floresta equatorial.

**Questão 14** - (CEFET-BA-adaptada) — No final do século XIX e na primeira metade do século XX, o crescimento acelerado das cidades e a sua modernização tornou-se comum em muitas nações industrializadas, hoje chamadas desenvolvidas. Esse processo permitiu a observação de contrastes, como:

- A) divisão do espaço urbano em bairros operários, na periferia das cidades, e bairros centrais, embelezados por obras públicas.
- B) a aceleração da migração da população da zona urbana para a zona rural, com a criação dos subúrbios.
- C) minimização dos conflitos sociais urbanos e aumento dos conflitos no campo.
- D) integração entre regiões com diferentes culturas, criando uma sociedade de massas.
- E) aumento de produção nos setores primário e a decadência do setor terciário.

**Questão 15** - (UENF-modificada) — Leia um trecho de crônica de Lima Barreto:

*“As chuvaradas de verão, quase todos os anos, causam no nosso Rio de Janeiro inundações desastrosas. Além da suspensão total do tráfego, com uma prejudicial interrupção das comunicações entre os vários pontos da cidade, essas inundações causam desastres pessoais lamentáveis (...). O Rio de Janeiro, da avenida, dos squares, dos freios elétricos, não pode estar à mercê de chuvaradas, mais ou menos violentas, para viver a sua vida integral. Não sei nada de engenharia, mas, pelo que me dizem os entendidos, o problema não é tão difícil de resolver (...). Infelizmente, porém, nos preocupamos muito com os aspectos externos, (...) e não com o que há de essencial nos problemas de nossa vida urbana, econômica, financeira e social.”*

Lima Barreto. “Vida urbana”. Em: *Crônicas escolhidas*.

São Paulo: Ática, 1995.

Lima Barreto é considerado um cronista perspicaz da sociedade carioca do início do século XX. O trecho selecionado apresenta o problema das enchentes urbanas. Dentre as diversas causas apresentadas para a sua ocorrência, que até hoje tumultua a vida dos cariocas e de outras populações urbanas do Brasil, as duas especialmente ressaltadas são:

- A) ocupação desordenada e ineficiência das comunicações.
- B) sítio escarpado da cidade e problemas com a engenharia.
- C) falta de desenvolvimento tecnológico e traçado colonial da cidade.
- D) ênfase no embelezamento urbano e precariedade da infra-estrutura.
- E) o empobrecimento da cidade e a ocupação das reservas naturais.

**Questão 16** - (UNESP) — Na região Nordeste dos Estados Unidos localiza-se um grande parque industrial denominado *manufacturing belt*. A alternativa que contém os quatro fatores que explicam a concentração industrial naquela porção do território norte-americano é:

- A) jazidas de bauxita e cobre; energia nuclear; política governamental e mão-de-obra feminina.
- B) jazidas de cobre e manganês; política governamental; proximidade dos mercados consumidores e investimentos externos.
- C) integração agroindustrial; proximidade do mercado consumidor; investimentos externos e política governamental.

D) jazidas de manganês e bauxita; política governamental; energia termelétrica e mão-de-obra barata.

E) jazidas de carvão e de minério de ferro; mão-de-obra qualificada; recursos energéticos e densa rede de transportes.

**Questão 17** - (PUCCAMP-adaptada) — Leia o texto:

*“Nos Estados Unidos, a região das planícies Centrais tem apresentado grande evolução agrícola: no corn belt, o milho está cada vez mais associado à beterraba e à soja; no antigo cotton belt encontram-se, hoje, ao lado do algodão, a pecuária, a avicultura e cereais diversos; e, no sul, a irrigação introduziu produções agrícolas que associam o trigo de inverno com milho e sorgo.”*

A leitura do texto permite concluir que:

A) é forte a intervenção do Estado na organização espacial da agricultura norte-americana.

B) as antigas regiões de monocultura, os *belts*, estão cedendo lugar a sistemas agrícolas mais complexos e diversificados.

C) atualmente, só o oeste montanhoso apresenta áreas de monocultura; e os *belts*, de frutas cítricas.

D) a produção, cada vez mais voltada para o mercado interno, fez desaparecer quase por completo a agricultura especializada dos *belts*.

E) o crescimento de outros setores da economia tem provocado a diminuição da produção agrícola dos *belts*.

**Questão 18** - (UNIRIO-adaptado) — Os países subdesenvolvidos são responsáveis por grande parte da produção mundial de recursos minerais, sendo o bloco desenvolvido o principal mercado consumidor. Como problemas que os países subdesenvolvidos enfrentam nesse comércio, podemos citar:

A) Pequena oferta de minerais no mercado mundial, o que provoca alta dos preços dos minérios no mercado internacional.

B) Fatores ocasionais, como, por exemplo, a variação cambial, que impede que estes países possam importar esses produtos do exterior.

C) Organização eficiente entre os países exportadores de minérios para evitar que ocorram flutuações de preço indesejáveis no mercado mundial.

D) Dificuldade de atender a grandes centros tecnológicos de ponta, que exigem um volume cada vez maior de matérias-primas de origem mineral.

E) O protecionismo e a política de preços impostos pelos países desenvolvidos, que dificultam a negociação de seus produtos no mercado internacional.

**Questão 19** - (UFMA-adaptada) — Mesmo percorrendo uma extensa área do país onde o clima dominante é o semi-árido, o rio São Francisco consegue atravessá-la com características de um rio perene, levando água àquelas comunidades que lá sobrevivem.

Identifique a principal causa que justifique esse rio permanecer perene na citada região.

A) Grandes chuvas que caem no Norte de Minas Gerais.

B) Sua nascente encontra-se em uma área bastante chuvosa.

- C) Grande contribuição de afluentes que nascem no interior do Nordeste.
- D) O clima de grande parte do Nordeste é tropical úmido.
- E) Há elevados índices pluviométricos anuais no Sertão da Bahia.

**Questão 20** - (UFCE) — A organização do espaço geográfico da Amazônia no século XX reflete uma história de violência, conflitos e lutas. Sobre os processos que se desenvolveram nesse período na Região, é **correto** afirmar que:

- A) A participação de grupos transnacionais com pesquisas na Amazônia está relacionada ao processo de internacionalização da Região.
- B) O Banco da Amazônia e a Sudam impediram a Amazônia Legal de ser transformada em cenário de investimentos com recursos privados.
- C) A distribuição de terras para trabalhadores rurais na Região foi acompanhada da implantação de infraestrutura de serviços como hospitais e escolas.
- D) Os projetos econômicos implantados na Região asseguraram às populações indígenas e ribeirinhas boas condições econômicas, sociais e políticas.
- E) As rodovias Belém-Brasília e Transamazônica reduziram as migrações e a especulação fundiária que antes retalhara a Região em imensos latifúndios.

**Questão 21** - (UNESP-adaptada) — Pelas características geográficas, o Japão tem sérias dificuldades para suprir suas necessidades de energia e de matérias-primas industriais. Essa realidade fez com que o país procurasse desenvolver:

- A) produção de carvão vegetal junto às usinas siderúrgicas.
- B) agroindústrias localizadas nas zonas rurais.
- C) grandes usinas siderúrgicas localizadas próximas às jazidas de ferro.
- D) grandes reservatórios para a produção de energia elétrica.
- E) indústrias de tecnologia avançada, como eletrônica e informática.

**Questão 22** - (UFPE-adaptada) — Analise as referências aos Tigres Asiáticos:

- I. As maiores concentrações industriais desses países localizam-se nas áreas costeiras, voltadas para o Pacífico.
- II. As relações comerciais entre esses países e o Brasil são muito amplas e, atualmente, chegam a superar as que são mantidas com os Estados Unidos.
- III. Hong Kong, Taiwan, Coréia do Sul e Singapura são os países que começaram a ser chamados de Tigres Asiáticos, após o intenso desenvolvimento industrial ocorrido na década de 1970.
- IV. Hong Kong, em 1997, foi devolvida à China, mas teve garantida uma situação especial em relação ao restante do país.
- V. Apesar de elevada, a produção agrícola desses países é insuficiente para atender seu consumo interno, já que é voltada para a exportação.

VI. Esses países oferecem mão-de-obra barata, com custo menor do que o existente nos Estados Unidos, Alemanha e Japão.

VII. Esses países oferecem uma rígida legislação antipoluição.

VIII. São países que apresentam vantagens concorrenciais, tais como baixos impostos, mão-de-obra disciplinada e qualificada, além de facilidades para exportação e para remessa de lucros.

São **corretas** apenas as afirmações:

A) I, III, IV, VI e VIII.

B) I e II.

C) II, III e V.

D) I, II, III e IV.

E) Todas são corretas.

**Questão 23** - Com base nos dados da tabela abaixo aponte a alternativa que analisa **corretamente** a agropecuária australiana:

Produtos	% do PIB agrícola	Parcela exportada
Cereais diversos	25,5	76
Trigo	17,3	81
Carne	12,0	74
Leite	10,0	—
Lã	9,3	83

Fonte: Australian Bureau of Statistics, 2003.

A) Os cinco produtos indicados correspondem à cerca de 2/4 do valor da produção rural do país, o que mostra o seu subdesenvolvimento e sua dependência do setor econômico primário.

B) A grande dependência do mercado externo de produtos agrícolas, fato demonstrado pelas elevadas parcelas de exportação, comprova que o país pertence ao grupo de nações do Sul.

C) Os produtos que se destacam na agropecuária australiana têm bom valor no mercado internacional, o que valoriza suas exportações e contribui para alavancar a sua economia.

D) A excessiva dependência da produção de cereais (42,8% do PIB agrícola), fato comum nos países subdesenvolvidos, indica problemas econômicos graves.

E) O país tem excessiva dependência de produtos animais (31,3% do PIB agrícola), o que é um problema grave, já que está situado em uma região de clima seco e baixa produtividade animal.

**Questão 24** - (UFMG-adaptada) — A Organização Mundial do Comércio (OMC) tem sido o fórum de discussões que envolvem interesses comerciais conflitantes entre países pobres e ricos. Considerando-se esses conflitos comerciais, é **incorreto** afirmar que:

A) os países pobres enfrentam barreiras comerciais, impostas por países ricos, sob a acusação de devastarem o meio ambiente, o que reduz a entrada de recursos necessários à modernização da exploração das riquezas naturais.

B) os países pobres vêm elevando as tarifas alfandegárias impostas aos produtos industriais dos países ricos, como forma de estimular o desenvolvimento da tecnologia nacional.

- C) os países ricos, de modo geral, concedem subsídios a seus produtores agrícolas, mas rechaçam atitudes semelhantes dos países periféricos em relação a produtos industriais de exportação.
- D) os países ricos impõem restrições às exportações dos países pobres, como forma de retaliação contra a suposta exploração da mão-de-obra infantil e do trabalho em regime de semi-escravidão.
- E) os países ricos procuram impor restrições à quebra de patentes na indústria farmacêutica.

**Questão 25** – (MACK-adaptada) — Analise o gráfico e a afirmação:



*“Exatamente aqueles países que mais necessitam de capitais para organizar sua economia e elevar o padrão socioeconômico de sua população são os mais afetados pela deterioração dos termos de troca”.*

Yves Lacoste, Herodote 35, Vol II. 2007.

Assinale a alternativa que interpreta essas informações de forma **correta**:

- A) O gráfico e a afirmação estão relacionados, pois os países exportadores de produtos agrícolas, tradicionalmente dependentes de recursos, recebem menos por suas exportações.
- B) O gráfico e a afirmação tratam de aspectos relativos à economia internacional, porém ambos não podem ser relacionados.
- C) O gráfico diz respeito diretamente à economia dos países pobres, e a afirmação relaciona-se com o fluxo de capitais entre os países ricos.
- D) O gráfico deixa claro que a possibilidade de entrada de capitais nos países emergentes, como o Brasil, depende basicamente da exportação de produtos agrícolas.
- E) Não é possível fazer uma associação direta entre o gráfico e a afirmação.

**Questão 26** - A OCDE fez um estudo da evolução dos subsídios agrícolas no mundo e constatou que nas duas últimas décadas do século XX eles cresceram em quase todos os países analisados. Observe os dados:

<b>Evolução dos subsídios agrícolas (em bilhões de dólares)</b>		
<b>Regiões</b>	<b>1986</b>	<b>1999</b>
UE	94,6	114,6
Japão e Coréia	65,6	87,5
EUA	41,9	29,6
Outros países	34,4	21,5
Total mundial	236,4	253,2

Fonte: OMC e OCDE; Marcos Sawaya Jank; BID, 2002.

A tabela indica que houve aumento substancial dos subsídios na União Européia. Considerando seu conhecimento sobre a agricultura européia, aponte a alternativa que justifica **corretamente** esses subsídios:

- A) Eles são essenciais, pois a produtividade das pequenas propriedades européias é baixa.
- B) Eles favorecem as exportações agrícolas européias e dificultam a entrada de produtos concorrentes importados.
- C) Eles são importantes para os países-membros da UE mecanizarem sua agropecuária e poder concorrer no mercado mundial.
- D) Eles atrapalham a agropecuária européia, pois encarecem os produtos agrícolas e impedem as exportações.
- E) As alternativas A e C são corretas e se completam.

**Questão 27** - Analise o texto:

*“O estudo avaliou o desempenho das culturas de milho, arroz e soja, plantadas em áreas antes ocupadas com a *Crotalaria juncea*, planta usada como adubo verde e na fabricação de papel de cigarros, cordas e tapetes. Os resultados confirmaram as suspeitas dos pesquisadores: as culturas anuais de milho e arroz tornam-se mais produtivas quando semeadas depois da crotalaria ou da soja, duas representantes da família das leguminosas”.*

Adaptado de: “Adubo natural”. Revista *Pesquisa Fapesp*.

Agosto de 2003, nº 90, pág. 68.

No texto, o plantio de arroz e milho, após a colheita de crotalaria e soja - duas leguminosas - caracteriza, na prática agrícola, a chamada \_\_\_\_\_ 1 \_\_\_\_\_. As duas leguminosas enriquecem o solo com compostos nitrogenados, graças à ação de bactérias \_\_\_\_\_ 2 \_\_\_\_\_ existentes nos nódulos radiculares.

Os termos que preenchem **corretamente** as lacunas 1 e 2 do texto acima são:

- A) consorciação de culturas - nitrificantes.
- B) adubação verde - desnitrificantes.
- C) rotação de culturas - fixadoras de nitrogênio.
- D) adubação orgânica - fixadoras de nitrogênio.
- E) rotação de culturas - fixadoras de hidrogênio.

**Questão 28** - (FUVEST) — O teor de gás carbônico (CO<sub>2</sub>) atmosférico vem aumentando: em 1850 era de 275ppm (partes por milhão); em 1958 era de 315ppm; e, em 1982, era de 340ppm. Estima-se que, em 2050, sejam atingidos teores entre 550 e 650ppm. Qual alternativa aponta, respectivamente, a principal causa do aumento do CO<sub>2</sub> atmosférico e uma possível consequência desse fenômeno?

- A) Queima de combustíveis fósseis; aumento da temperatura global.
- B) Queimadas na Amazônia; lixiviação e empobrecimento do solo.
- C) Aumento da área de terras cultivadas; aumento nas taxas de fotossíntese.
- D) Desflorestamento; diminuição da fertilidade do solo.
- E) Destruição da camada de ozônio; aumento da taxa de mutação genética.

**Questão 29** - (ESPM-adaptada) — Os verões europeus têm sido atípicos: o Reino Unido registrou, em 2001, temperatura recorde em sua história, quando as máximas atingiram 38°C; alguns países ultrapassaram a marca de 40°C; mortes em número ele vado foram constatadas na França, Espanha e Portugal. Para muitos estudiosos, a onda de calor estaria relacionada à interferência antrópica.

Esta provável interferência seria:

- A) a emissão de enxofre na atmosfera, que proporciona a ocorrência de chuva ácida.
- B) a destruição da camada de ozônio, que é perfurada devido à emissão de CFC.
- C) o efeito estufa.
- D) a proliferação de ilhas de calor, interferindo no clima mediterrâneo.
- E) a extinção dos biomas tropicais europeus, que alterou o clima local.

**Questão 30** - Localizadas a Oeste de Greenwich, duas cidades, “A” e “B”, encontram-se, respectivamente, a 90° e 30°. Numa segunda-feira, um avião saiu de “A” às 12 horas e chegou no mesmo dia, a “B” depois de 6 horas de viagem. O horário do local de chegada, em “B”, foi:

- A) 20 horas.
- B) 14 horas.
- C) 19 horas.
- D) 22 horas.
- E) 13 horas.

**Questão 31** - Se o clima de uma dada área é definido pela sucessão habitual do tempo meteorológico nessa área ao longo de um período relativamente longo, pode-se afirmar que a alternativa que indica, respectivamente, o tempo e o clima das cidades destacadas nas alternativas é:

- A) Porto Alegre tem inverno chuvoso, embora, nessa estação, haja dias ensolarados.
- B) Belém é uma cidade úmida e quente, embora hoje esteja ensolarada.

- C) Curitiba apresenta tempo chuvoso, com previsões de tormentas fortes para a madrugada.
- D) Recife não teve chuvas a semana toda, embora o inverno, na cidade, seja chuvoso.
- E) São Paulo amanheceu com céu nublado, com grandes possibilidades de chuvas esparsas.

**Questão 32** - (UFAC-modificada) — Na atualidade uma das características das modernas metrópoles é a formação de ilhas de calor. Trata-se de um fenômeno climático típico das grandes cidades, que colabora para aumentar seus índices de poluição, resultante da:

- I. elevação das temperaturas médias nas zonas centrais da mancha urbana que pode chegar a uma variação térmica entre 5° e 10°C, em comparação com as zonas periféricas.
- II. substituição da vegetação original por grande quantidade de casas e prédios, ruas e avenidas, pontes e viadutos e uma série de outras construções que é tanto maior quanto mais se aproxima do centro das grandes cidades e que faz aumentar significativamente a irradiação de calor para a atmosfera em comparação com as zonas periféricas ou rurais, onde, em geral, é maior a cobertura vegetal.
- III. considerável concentração de gases e materiais particulados, lançados pelos automóveis e fábricas, responsáveis por uma espécie de efeito estufa localizado, que colabora para aumentar a retenção de calor.
- IV. elevação da temperatura nas áreas urbanas centrais que facilita a ascensão do ar, quando não há inversão térmica, formando uma zona de baixa pressão. Isso faz com que os ventos soprem, pelo menos durante o dia, para essa região central, levando, muitas vezes, maiores quantidades de poluentes.

São **corretas** apenas as afirmações:

- A) III e IV.
- B) I e II.
- C) I e III.
- D) II e IV.
- E) Todas são corretas.

**Questão 33** - (PUC-RS) — Responda à questão com base no texto e nas afirmativas abaixo, referentes à incidência do Sol no Brasil. *“Uma das causas da existência das diferentes estações do ano é a inclinação do eixo da Terra em relação ao plano do Equador”*. Sobre esse processo, afirma-se que:

- I. Nos equinócios, quando o Sol nasce no Leste e se põe no Oeste, as áreas situadas sobre o Trópico de Capricórnio têm o Sol no zênite ao meio dia.
- II. Porto Alegre em nenhum momento, durante o ano, tem o Sol no zênite, pois se localiza ao sul do paralelo de 23°27'.
- III. As cidades brasileiras localizadas entre o Equador e o Trópico de Capricórnio possuem o Sol no zênite duas vezes ao ano.
- IV. As cidades localizadas ao sul do Trópico de Capricórnio jamais terão a nascente do Sol precisamente no ponto Leste.

A análise das afirmativas permite concluir que está **correta** a alternativa

- A) I e II.

- B) I e III.
- C) I, II, III e IV.
- D) II, III e IV.
- E) III e IV.

**Questão 34** - (FESP) — Um estudante de um determinado colégio foi encarregado de estudar aspectos urbanos de um trecho da Região Metropolitana do Recife. O professor de Geografia, sabendo da importância da Cartografia para esse tipo de estudo, forneceu-lhe cinco mapas para que utilizasse aquele que iria apresentar um maior nível de detalhe. Se essa tarefa lhe fosse confiada, qual seria a escala do mapa que você escolheria?

- A) 1: 5.000.000
- B) 1: 1.000.000
- C) 1: 250.000
- D) 1: 500.000
- E) 1: 10.000

**Questão 35** - (GV) — De acordo com Luís Antonio Paulino, analista da Fundação Seade:

- 22% das intenções de investimento na indústria em São Paulo para o período de 1995-2000 destinavam-se aos municípios da Região Metropolitana (RMSP) e 78% aos municípios do interior do Estado;
- forma-se um novo pólo da indústria automobilística na Região Metropolitana de Curitiba;
- o eixo Rio de Janeiro-Espírito Santo-Bahia inclui-se na rota dos novos investimentos industriais.

Essas características da atual industrialização brasileira indicam:

- A) concentração regional da produção industrial no Sudeste brasileiro.
- B) reestruturação urbano-industrial, com metropolização industrial.
- C) concentração industrial, com formação de novos grandes pólos hegemônicos de produção.
- D) reestruturação urbano-industrial, visando ao equilíbrio da produção pelas diversas regiões brasileiras.
- E) reestruturação urbano-industrial, com tendência de desconcentração industrial.

**Questão 36** - (UFGO) — A atual estrutura do espaço urbano brasileiro apresenta uma rede urbana diferenciada quanto à distribuição no território nacional. São causas dessa diferenciação:

- A) a industrialização do Sudeste e a modernização da agricultura na Região Centro-Oeste.
- B) a desmetropolização de São Paulo e a industrialização da Região Centro-Oeste.
- C) a internacionalização da Amazônia e a criação de novas unidades federativas.
- D) a guerra dos lugares pela disputa fiscal no Sul e o turismo na Região Norte.

E) o investimento estatal na rede viária da Região Centro-Oeste e a migração para o Distrito Federal.

**Questão 37** - (UFSCar) — O Brasil desenvolveu tecnologia capaz de transformar a cana-de-açúcar em álcool combustível. Os veículos que utilizam esse combustível poluem menos do que aqueles que usam derivados de petróleo. Entretanto, a produção do álcool como combustível gerou problemas, dentre os quais se destacam:

- A) a diminuição das pesquisas e da extração de gás natural e de petróleo.
- B) o aumento da população que vive no campo, por causa da expansão da produção de cana.
- C) o crescimento dos gastos, em dólares, com importação de maquinário agrícola.
- D) a diversidade agrícola, já que o cultivo de cana vem associado ao de outros produtos.
- E) a descarga incorreta do vinhoto, resíduo poluidor proveniente da produção do álcool, nos rios próximos às usinas.

**Questão 38** - (UNICAMP-modificada) — O último recenseamento mostrou que o Brasil possui mais de 40 milhões de miseráveis, provando que a aparente democracia brasileira esconde, na verdade, um *apartheid* social. Isso significa que:

- A) uma massa imensa de pessoas está segregada, vivendo à margem da sociedade, excluída das principais políticas sociais do país.
- B) esses indivíduos vivem apartados da sociedade, concentrando-se em locais específicos.
- C) esse fenômeno é específico de alguns grupos sociais, não atingindo a população como um todo.
- D) o fenômeno é étnico e esconde a questão racial.
- E) As alternativas C e D são corretas e se completam.

**Questão 39** - (CEFET-PR-modificada) — Leia o texto:

*“O fenômeno dos sem-teto, curiosidade na primeira metade do século XX, hoje é um fato banal, presente em todas as grandes cidades do mundo. O desemprego é algo tornado comum. A pobreza também aumenta. No fim do século XX havia mais de 600 milhões de pobres do que em 1960; e 1,4 bilhão de pessoas ganham menos de um dólar por dia. O fato, porém, é que a pobreza, tanto quanto o desemprego, são considerados como algo ‘atual’, inerente a seu próprio processo. Junto ao desemprego e à pobreza absoluta, registre-se o empobrecimento relativo de camadas cada vez maiores graças à deterioração do valor do trabalho”.*

Adaptado de Milton Santos. Por uma outra globalização —

do pensamento único à consciência universal.

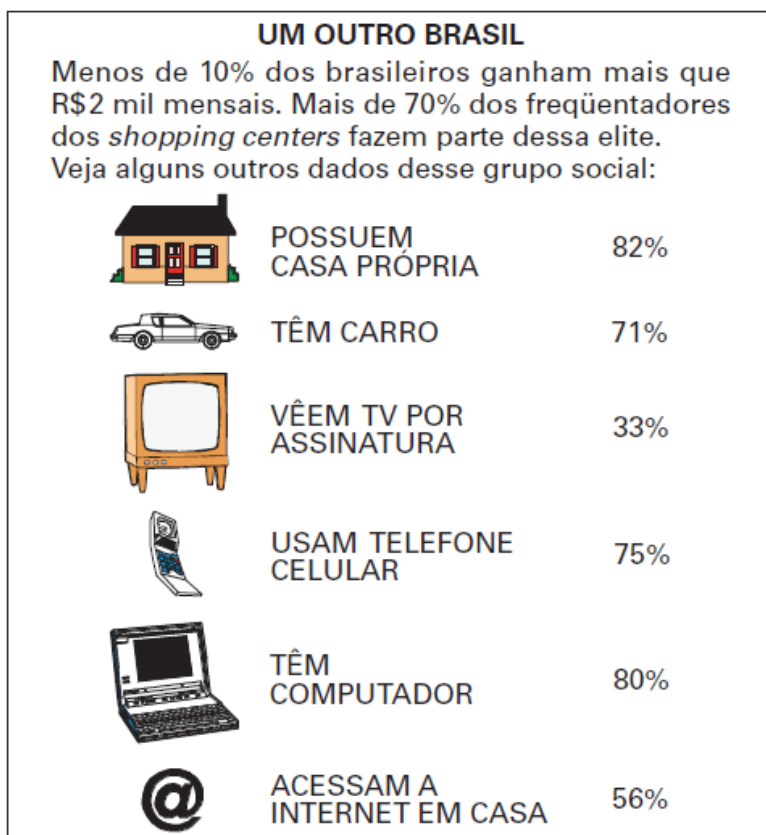
Com base no texto transcrito, pode-se afirmar que, para o autor:

- I. o processo da globalização acentuou os contrastes sociais por todo o mundo.
- II. a globalização diz respeito à economia e nada tem a ver com esses contrastes sociais.
- III. a globalização acirrou a exclusão social e expôs as contradições do sistema capitalista.

Analisando as proposições acima, assinale:

- A) se somente as proposições II e III forem corretas.
- B) se somente a proposição I for correta.
- C) se somente a proposição II for correta.
- D) se somente as proposições I e III forem corretas.
- E) se somente as proposições I e II forem corretas.

**Questão 40** - (UFPEL-adaptada) — Um estudo feito em dez *shopping centers* de seis cidades brasileiras, com amostragem de 35.000 entrevistas, chegou a diversas conclusões importantes sobre o comércio urbano brasileiro. Algumas delas estão no quadro:



Fonte: *Veja*, São Paulo, 02/10/2002.  
(Abrasce, IBGE, Latin Panel, Ibope, Toledo & Associados, Abta. Multiplan/Renasce e Saphyr Administradora de Shopping Centers)

Com base nesses dados e nos conhecimentos sobre o comércio, aponte a análise **incorreta**:

- A) O Brasil é um dos países onde há mais *shopping centers*, prontos e em construção, o que de certa forma mostra que parte da população usa esses espaços como forma de proteção contra a violência urbana.
- B) Muitos *shopping centers* barram, de forma velada ou explícita, a entrada de mendigos, menores abandonados ou pessoas de baixa renda em suas dependências.
- C) No Rio de Janeiro, houve a invasão de um *shopping center* por um grande grupo de pessoas marginalizadas, vindas das favelas dos morros que cercam o bairro, o que demonstra que essa forma de comércio demarca um território da elite.

D) O nível de renda e de poder aquisitivo indicado pelos dados dessa pesquisa demonstra que os *shopping centers* são de fato os “templos do consumo” de pequena parcela de brasileiros.

E) Os *shopping centers* são a forma de comércio com maior expansão no Brasil na atualidade, o que indica sua deselitização e transformação numa forma mais popular, barata, racional e segura de comércio urbano.

**Questão 41** - (MACK) — Sabemos que: 92% da superfície brasileira estão localizados ao norte do Trópico de Capricórnio, possuindo, portanto, uma vasta área intertropical, com irradiação térmica positiva, onde predominam climas quentes, com uma média de 20°C a 25°C e baixa amplitude térmica; 8% do nosso território possuem médias térmicas menores que 20°C e a amplitude térmica maior que 5°C. Observe atentamente a tabela.

Cidade	Média térmica
Belém	25,6°C
Fortaleza	26,3°C
João Pessoa	25,1°C
Salvador	24,9°C
Vitória	23,2°C
Rio de Janeiro	22,7°C
Santos	22,0°C
Florianópolis	20,5°C
Porto Alegre	19,1°C

Analisando os dados relacionados, identifique o fator climático determinante da diminuição da temperatura.

- A) altitude
- B) continentalidade
- C) latitude
- D) intemperismo
- E) pluviosidade

**Questão 42** - Qual das seguintes alternativas refere-se **corretamente** a uma consequência do fenômeno El Niño?

- A) O sensível aumento na velocidade dos ventos, que ocorre por razões ainda pouco conhecidas, é uma das causas mais evidentes da ocorrência do El Niño.
- B) O maior problema econômico que deriva da ocorrência do El Niño é a diminuição da produção agrícola nas áreas temperadas do globo, em função das quedas rápidas de temperaturas.
- C) Embora o fenômeno atmosférico tenha sua origem nas águas oceânicas, a economia relacionada aos transportes marítimos e à pesca não sofre praticamente nenhuma influência negativa do El Niño.
- D) Quando se verifica a ocorrência do El Niño, percebe-se uma elevação sensível do índice de chuvas nas áreas tradicionalmente muito secas, ao mesmo tempo em que diminui a incidência das chuvas tropicais sobre os oceanos.
- E) A ocorrência do El Niño faz com que deixe de acontecer o fenômeno da ressurgência, que é a subida das águas oceânicas mais profundas e frias para a superfície, elevando-se a média térmica das águas superficiais.

**Questão 43** - Leia o texto abaixo e responda a questão a seguir:

*“Em decorrência do crescimento da produção interna, aliada à estratégia de diversificação de mercados empreendida pelas empresas exportadoras brasileiras, os bens minerais vêm contribuindo de forma expressiva como fonte de divisas para o Brasil. (...) Isso não quer dizer, no entanto, que ele não seja dependente externamente de algumas produções minerais (...)”*

Fonte: DNPM 2000.

Assinale a alternativa que apresenta respectivamente um minério que integra a pauta de exportação brasileira e outro que integra a pauta de importação brasileira.

- A) Cobre e Manganês.
- B) Petróleo e Estanho.
- C) Gás Natural e Manganês.
- D) Alumínio e Cobre.
- E) Ferro e Manganês.

**Questão 44** - (ESPM-modificada) — Analise o texto sobre a realidade urbana do Brasil contemporâneo:

*“Ao fenômeno de êxodo rural acrescenta-se também, ainda mais do que no período anterior, o êxodo urbano. Observe, ainda nos últimos anos, que as aglomerações urbanas nascidas das novas lógicas territoriais têm um tamanho bem maior do que nos períodos anteriores.”*

Milton Santos. O Brasil: território e sociedade no século XXI.

Rio de Janeiro: Record, 2001.

Sobre o fato analisado podemos fazer as seguintes afirmações, **exceto**:

- A) Hoje, as cidades médias brasileiras têm maior população em relação a épocas anteriores.
- B) A maior fluidez no espaço geográfico, verificada com as inovações tecnológicas, contribuíram para a transferência de moradores das metrópoles para as cidades médias.
- C) Hoje, muitos trabalhadores agrícolas vivem na cidade, e se deslocam para a zona rural quando necessário.
- D) O fenômeno do êxodo rural diminuiu consideravelmente nas duas últimas décadas e tende a continuar sua escalada de redução.
- E) O desenvolvimento de cidades médias, como observado no interior paulista, ocorre simultaneamente ao enfraquecimento econômico da metrópole paulistana.

**Questão 45** - (FUVEST-adaptada) — Há cerca de 5 mil anos desenvolveram-se nos vales de grandes rios, como Nilo, Tigre e Eufrates, civilizações organizadas em Estados teocráticos, com poder fortemente centralizado. Um dos fatores que explica a formação desse espaço geográfico foi a:

- A) necessidade de coordenar o trabalho de grandes contingentes humanos, para realizar obras de irrigação agrícola.
- B) revolta dos camponeses e a insurreição dos artesãos nas cidades, que só puderam ser contidas pela imposição de governos autoritários.

C) influência das grandes civilizações do Extremo Oriente, que chegou ao Oriente Próximo através das caravanas de seda.

D) expansão das religiões monoteístas, em especial o cristianismo e o islamismo, que fundamentavam o caráter divino da realeza e o poder absoluto do monarca.

E) introdução de instrumentos de ferro e a conseqüente revolução tecnológica, que transformou a agricultura dos vales e levou à centralização do poder.

**Questão 46** - (UFSCar) — A mandioca, a batata-doce, a araruta, o milho, o feijão, o amaranto e o amendoim são utilizados como alimentos atualmente, porque foram

A) Cultivados como fontes alimentares das primeiras civilizações agrícolas que se fixaram nos vales dos rios Nilo e Eufrates, há 5 mil anos.

B) Cultivados inicialmente na África por volta de 3 mil anos atrás e difundidos nos séculos XV e XVI pelos europeus.

C) Alimentos básicos das primeiras comunidades agrícolas que se tornaram sedentárias há sete mil anos no Oriente Próximo.

D) Domesticados por populações que desenvolveram a agricultura na América, há pelo menos 6 mil anos.

E) Modificados geneticamente por comunidades agrícolas da Europa mediterrânea nos últimos 2 mil anos.

**Questão 47** - Assinale a alternativa **incorreta**.

A) A sociedade que se formou no nordeste açucareiro refletia a estrutura econômica da colônia: o latifúndio, a escravidão e a monocultura exportadora.

B) A sociedade açucareira era estratificada, rural, patriarcal e aristocratizada.

C) A camada intermediária, formada por agregados, padres, militares, funcionários, comerciantes e profissionais liberais representava uma importante parcela da população.

D) A grande maioria da população era formada pelos escravos, responsáveis por todo o trabalho manual.

E) A propriedade da terra e dos escravos, a renda e o poder político estavam concentrados nas mãos dos senhores de engenho.

**Questão 48** - (GV) — (...) *estabeleceram-se ali pequenos proprietários que produziam, a princípio, para a sua subsistência e, depois, pouco a pouco, para as plantações escravistas do sul do país e para a área das Antilhas. A produção não foi a típica da plantation, mas bastante diversificada — madeiras, cereais, manufaturados — e, o que é mais importante, os lucros tenderam a se concentrar na colônia (...)*

O texto identifica a colonização:

A) Holandesa, na América Latina.

B) Francesa, na América Anglo-Saxônica.

C) Espanhola, na América Central.

D) Portuguesa, na América do Sul.

E) Inglesa, na América do Norte.

**Questão 49** - Assinale a alternativa **incorreta**.

A) A colonização inglesa no sul dos atuais Estados Unidos foi de exploração, fundada no sistema de *plantation*.

B) O controle mercantilista inglês foi quase ausente nas Treze Colônias da América do Norte.

C) A Declaração de Independência, elaborada por Thomas Jefferson, fundava-se nos ideais iluministas da época.

D) A França e a Espanha apoiaram a independência dos EUA na luta contra a Inglaterra.

E) A Constituição de 1787 efetivou a idéia federalista de Alexander Hamilton, fazendo do presidente um monarca absoluto nos EUA.

**Questão 50** - (UNIABC) — A unidade alemã foi estabelecida em 1871. A primeira medida para que esse processo se efetuassem foi:

A) O estabelecimento do Zollverein, liga aduaneira dos Estados germânicos.

B) A formação da Confederação Germânica do Norte.

C) A derrota da Dinamarca diante da Prússia.

D) A Guerra Franco-Prussiana.

E) A anexação das regiões de Frankfurt e Hanover.

**Questão 51** - (FUVEST) — As cidades-Estado na Grécia:

A) eram politicamente autônomas.

B) apresentavam organização econômica solidária.

C) estavam unidas na política de colonização do Mediterrâneo.

D) possuíam princípios religiosos antagônicos.

E) mantiveram política comercial comum.

**Questão 52** - (GV) — Como resultado das reformas de Sólon, Psístrato e Clístenes, realizadas durante o século VI a.C., Atenas transformou-se em:

A) uma cidade governada por eupátridas.

B) uma democracia limitada à classe dos cidadãos.

C) uma democracia em que todos os membros da comunidade eram livres e possuíam direitos iguais.

D) uma teocracia em que os sacerdotes ou periecos, como eram chamados, possuíam poderes ditatoriais.

E) nenhuma das respostas anteriores.

**Questão 53** - O apogeu da democracia aconteceu durante o governo de Péricles, no século V a.C., que ficou conhecido como o Século de Péricles ou a Idade de Ouro Ateniense.

Assinale a alternativa **incorreta**.

- A) A sociedade espartana, formada por espartanos, periecos e hilotas, possuía grande mobilidade, graças à legislação deixada por Licurgo.
- B) Em Esparta, a propriedade da terra era estatal: a terra era dividida em lotes que eram doados vitaliciamente aos espartanos e cultivados pelos hilotas.
- C) Em Atenas, Sólon tentou resolver os conflitos sociais e pôs fim aos privilégios da aristocracia; decretou o fim da escravidão por dívidas e dividiu os cidadãos conforme suas rendas, definindo direitos políticos diferenciados e criando uma República Censitária.
- D) Durante o governo de Clístenes instaurou-se a democracia, ampliando a participação na vida política a todo cidadão ateniense.
- E) No governo de Péricles a democracia foi aprimorada por meio de pagamento de remuneração aos que participassem da assembléia popular e dos tribunais, o que permitiu que as classes mais pobres da sociedade também participassem.

**Questão 54** - O Principado, transição entre a República e o Império, na história de Roma, caracterizou-se, entre outros motivos, pelo fato de Otávio:

- A) Concentrar em suas mãos a autoridade do Senado, dos magistrados e das leis.
- B) Obter o apoio dos patrícios por meio da revogação das leis agrárias dos Graco.
- C) Devolver ao Senado os privilégios e os poderes perdidos na época de Sila.
- D) Eliminar a influência etrusca em Roma graças à aliança entre os povos do Lácio.
- E) Outorgar vantagens sociais à plebe, aprovando as Leis Licínias, que limitavam a concessão de terras aos patrícios.

**Questão 55** - Assinale a alternativa **incorreta**.

- A) As migrações bárbaras fragmentaram o Império Romano e contribuíram para a formação de uma nova ordem na Europa, o feudalismo.
- B) Com a conversão dos bárbaros, formaram-se vários reinos cristãos, com poder centralizado forte e adotou-se o latim como língua oficial, apesar dos dialetos locais.
- C) O Reino dos Francos, o mais importante da Alta Idade Média, formou-se com os Merovíngios, reis que aos poucos perderam sua força e sujeitaram-se aos senhores feudais.
- D) Com Carlos Magno construiu-se um grande império cristão no Ocidente, sendo seu território dominado e administrado por duques, condes, barões e marqueses, sob a supervisão dos *missi dominici* ("enviados do senhor").
- E) O Tratado de Verdun dividiu o império entre os netos de Carlos Magno, acelerando a descentralização política.

**Questão 56** - Sob o ponto de vista cultural, Constantinopla, cujo esplendor máximo foi atingido sob Justiniano, representava:

- A) As concepções de vida do povo eslavo, que destruíra o Império Romano do Ocidente.
- B) A síntese do mundo greco-romano e do mundo oriental.
- C) O retorno das idéias democráticas da Grécia antiga.
- D) O triunfo do paganismo e da religião baseada na mitologia grega.
- E) A continuação do Império Árabe, dissolvido no século VII da era cristã.

**Questão 57** - A expansão árabe a partir do século VII:

- A) Acarretou a queda do Império Bizantino.
- B) Dificultou o comércio do Mediterrâneo, acentuando a ruralização na Europa Ocidental.
- C) Provocou o deslocamento das atividades marítimo-comerciais do Mediterrâneo para o Atlântico.
- D) Incentivou o comércio entre Ocidente e Oriente.
- E) Incentivou a urbanização da Europa Ocidental.

**Questão 58** - Dentre as contribuições germânicas para a formação do feudalismo, podemos citar:

- A) O fechamento do Mediterrâneo.
- B) O reatamento do comércio entre o Ocidente e o Oriente.
- C) A economia natural e o desconhecimento da concepção de Estado.
- D) O colonato e a sociedade rigidamente estratificada.
- E) A clientela e a economia natural.

**Questão 59** - (FUVEST) — Qual das características abaixo **não** se refere ao feudalismo na Europa Ocidental?

- A) Organização econômica baseada na produção agrária.
- B) Regime de trabalho servil.
- C) Estrutura social rigidamente estratificada.
- D) Predomínio da economia de subsistência.
- E) Centralização do poder político.

**Questão 60** - (GV) — Pode-se afirmar que o feudalismo é um sistema:

- A) De suserania e vassalagem, no qual o direito de governar é concebido como um direito de propriedade, cabendo a quem quer que possua um feudo; a relação entre o suserano e seus vassalos é uma relação contratual, que envolve obrigações recíprocas.
- B) De suserania e vassalagem, no qual o direito de governar é hereditariamente transferido, independente da posse de terras; o filho primogênito do suserano é automaticamente o novo suserano quando ele vier a falecer.
- C) De mando e subordinação, que não deriva de qualquer contrato, e no qual os vassalos são considerados como propriedade dos suseranos.
- D) Onde o poder de mando é estabelecido através de eleições periódicas que envolvem a participação de todos os habitantes do feudo, independentemente de sua condição social.
- E) Em que os governantes possuem poder ilimitado; é um governo de homens e não de leis.

**Questão 61** - Assinale a afirmação **incorreta**.

- A) A Igreja Católica foi responsável pela formação da cultura teocêntrica, suporte ideológico da ordem feudal.
- B) Com a crescente cristianização da população européia e com o recebimento de doações, a Igreja se tornou a maior proprietária de terras do período medieval.
- C) O movimento de Cluny pregava a moralização da Igreja e condenava a simonia e o nicolaísmo.
- D) A partir do século X a visão católica de mundo é contestada pelo surgimento de algumas heresias, quebrando a unidade da Igreja Católica e gerando o Cisma do Ocidente.
- E) O Santo Ofício da Inquisição foi criado com a finalidade de punir todo aquele que fosse considerado uma ameaça para a fé católica.

**Questão 62** - As Cruzadas ao Oriente Médio (séculos XI – XIII) tiveram profunda influência sobre o feudalismo porque, entre outras razões:

- A) Diminuíram o prestígio da Santa sé, em virtude da separação das Igrejas cristãs de Roma e Bizâncio.
- B) Impediram os contatos culturais com civilizações refinadas, como a bizantina e a árabe.
- C) Aceleraram o comércio e a indústria, promovendo o desenvolvimento de uma nova camada social.
- D) Desintegraram o sistema de comércio com o Oriente, gerando a decadência dos portos de Gênova, Veneza e Marselha.
- E) Estimularam a expansão da economia agrária, que minou a economia monetária dos centros urbanos.

**Questão 63** - São características da arquitetura gótica:

- A) Horizontalidade e paredes maciças.
- B) Arcos ogivais e verticalidade.
- C) Abóbadas de meio ponto e interiores escuros.

D) Paredes maciças e abóbadas de meio ponto.

E) Verticalidade e arcos redondos.

**Questão 64** - Assinale a afirmação **incorreta**.

A) A partir do renascimento comercial e urbano, a posse da terra deixou de ser o único critério de riqueza.

B) A burguesia investiu no processo de centralização real, pois a fragmentação política dificultava o comércio, devido à falta de uniformidade de leis, pesos, medidas e moedas.

C) No processo de formação da monarquia centralizada francesa, destaca-se a dinastia Capetíngia, que instituiu impostos, moeda, exército e justiça nacionais, além da emancipação de vassallos mediante pagamento.

D) A Magna Carta, assinada por João Sem Terra, subordinou o poder da nobreza ao poder real.

E) Com a formação do Grande Conselho, reverteu-se o processo de centralização inglês.

**Questão 65** - Para a centralização do poder político os reis de Portugal recorreram, entre outros, aos seguintes meios:

A) Associação entre a Coroa e a nobreza e a criação de uma organização administrativa específica.

B) Associação entre a Coroa e os senhores feudais, com a dinamização das administrações locais.

C) Associação entre a Coroa e o clero e a descentralização na arrecadação dos impostos.

D) Associação entre a Coroa e a nobreza, com a centralização da justiça.

E) Associação entre a Coroa e o grupo mercantil e a formação de exércitos permanentes.

**Questão 66** - (PUC-PR-adaptada) — O estudo da Reforma Luterana e Calvinista e fatores econômicos envolvidos permitem afirmar:

I. Lutero pertencia à ordem dos Agostinianos, preterida na venda de indulgências na Alemanha, dado que os Dominicanos foram escolhidos.

II. Muitos nobres alemães, em cujas terras o clero católico possuía extensas propriedades, apoiaram Lutero após este ter recomendado a confiscação de tal patrimônio.

III. Quando ocorreu a Revolta dos Camponeses, inspirada em interpretações próprias da Bíblia, nobres católicos e protestantes uniram-se para defender suas terras.

IV. João Calvino ensinou que as pessoas que prosperavam nos negócios e profissões tinham no sucesso a marca divina da “predestinação”, que eram favorecidas por Deus.

A) Somente as opções I, II e IV estão corretas.

B) Somente as opções I, III e IV estão corretas.

C) Somente as opções I e IV estão corretas.

D) Somente as opções II e III estão corretas.

E) Todas as opções estão corretas.

**Questão 67** - Assinale a alternativa **incorreta**.

- A) As teorias sobre o aparecimento do homem na América afirmam que ele não é autóctone.
- B) Os povos indígenas que habitavam o Brasil antes da chegada de Cabral eram exclusivamente caçadores e coletores.
- C) A Pré-História brasileira não se encerrou com o aparecimento da escrita e sim com a chegada dos conquistadores europeus.
- D) O contato do colonizador europeu com os indígenas americanos dizimou as populações nativas por epidemias, pela escravidão ou por trabalhos forçados.
- E) Os primeiros relatos dos exploradores portugueses na Amazônia, descreveram a existência de imensas aldeias indígenas, que se assemelhavam às cidades, com casa, fortificações, plantações e estradas.

**Questão 68** - (FUVEST) — *“Eu, el-rei D. João III, faço saber a vós, Tomé de Sousa, fidalgo da minha casa que ordenei mandar fazer nas terras do Brasil uma fortaleza e povoação grande e forte na Baía de Todos-os-Santos. (...) Tenho por bem enviar-vos por governador das ditas terras do Brasil.”*

Regimento de Tomé de Sousa, 1549.

As determinações do rei de Portugal estavam relacionadas

- A) à necessidade de colonizar e povoar o Brasil para compensar a perda das demais colônias agrícolas portuguesas do Oriente e da África.
- B) aos planos de defesa militar do império português para garantir as rotas comerciais para a Índia, Indonésia, Timor, Japão e China.
- C) a um projeto que abrangia conjuntamente a exploração agrícola, a colonização e a defesa do território.
- D) aos projetos administrativos da nobreza palaciana visando à criação de fortes e feitorias para atrair missionários e militares ao Brasil.
- E) ao plano de inserir o Brasil no processo de colonização escravista semelhante ao desenvolvido na África e no Oriente.

**Questão 69** - (GV) — O “ayllu” como núcleo fundamental da civilização incaica representa:

- A) A ordem religiosa da qual provém o Curaca.
- B) Os clãs formados por indivíduos aparentados.
- C) A forma de trabalho coletivista.
- D) A ordem guerreira da qual provém o Curaca.
- E) Os proprietários de terras.

**Questão 70** - (GV) — “Os escravos são as mãos e os pés do senhor de engenho, porque sem eles não é possível fazer, conservar e aumentar fazenda, nem ter engenho corrente.”

ANTONIL, *Cultura e opulência do Brasil*.

Belo Horizonte: Itatiaia, 1982, p. 89.

Assinale a alternativa **correta**:

- A) A escravização dos negros africanos permitiu que os índios deixassem de ser escravizados durante o período colonial.
- B) O trabalho manual era visto como degradante pelos senhores brancos, e a escravidão, uma forma de lhes garantir uma vida honrada no continente americano.
- C) Apesar dos vultosos lucros obtidos com o tráfico, a adoção da escravidão de africanos explica-se pela melhor adequação dos negros à rotina do trabalho colonial.
- D) Extremamente difundida na Região Nordeste, a escravidão teve um papel secundário e marginal na exploração das minas de metais e pedras preciosas no interior do Brasil.
- E) Diante das condições de vida dos escravos, os jesuítas criticaram duramente a escravidão dos negros africanos, o que provocou diversos conflitos no período colonial.

**Questão 71** - (FUVEST) — “Antigamente a Lusitânia e a Andaluzia eram o fim do mundo, mas agora, com a descoberta das Índias, tornaram-se o centro dele.”

Essa frase, de Tomás de Mercado, escritor espanhol do século 16, referia-se

- A) ao poderio das monarquias francesa e inglesa, que se tornaram centrais desde então.
- B) à alteração do centro de gravidade econômica da Europa e à importância crescente dos novos mercados.
- C) ao papel que os portos de Lisboa e Sevilha assumiram no comércio com os marajás indianos.
- D) ao fato de a América ter passado a absorver, desde então, todo o comércio europeu.
- E) ao desenvolvimento da navegação a vapor, que encurtava distâncias.

**Questão 72** - (PUC) — A Revolução Comercial, em sua última fase, foi acompanhada por um novo corpo de doutrinas, conhecido como mercantilismo, e que visava, fundamentalmente:

- A) Promover a paz social por meio de medidas de ordem interna.
- B) Promover a expansão do catolicismo como forma de aumentar o poder do Estado.
- C) Fortalecer militarmente o Estado para garantir a sua supremacia sobre a nobreza.
- D) Ao não-intervencionismo do Estado em assuntos econômicos, limitando a sua ação à esfera política.
- E) Promover a prosperidade nacional e aumentar o poder do Estado.

**Questão 73** - Na sociedade estamental francesa, às vésperas da Revolução, constituía o Primeiro Estado:

- A) nobreza.
- B) clero.
- C) burguesia.
- D) *sans-culottes*.
- E) camponeses.

**Questão 74** - (UFRN) — Os girondinos, no processo da Revolução Francesa, representavam os:

- A) inimigos radicais da monarquia e a combatiam mesmo sob a forma constitucional.
- B) adeptos das idéias libertárias de Lafayette, influenciadas por um socialismo utópico.
- C) grupos de esquerda, que desejavam o aprofundamento das transformações sociais no processo revolucionário.
- D) elementos da alta burguesia que, apesar de defenderem as posições conquistadas, procuravam conter a ascensão das massas.
- E) defensores da pequena burguesia, que foi o estrato social prejudicado pela Revolução.

**Questão 75** - (FSL-RS) — Com a morte de Robespierre, iniciou-se a fase denominada reação termidoriana, que assinala:

- A) a ascensão de Napoleão pelo golpe de 18 Brumário.
- B) o início do terror.
- C) o fim da Convenção.
- D) a formação da Primeira Coligação contra a França.
- E) a volta da alta burguesia ao poder.

**Questão 76** - (FCL) — Qual dos fatos a seguir está relacionado com a volta de Napoleão ao governo da França, após sua fuga da ilha de Elba?

- A) O Consulado.
- B) A campanha da Rússia.
- C) Os 100 Dias.
- D) O Bloqueio Continental.
- E) Ao surgimento do 2º Império.

**Questão 77** - (GV) — Na Carta da Jamaica, de 1815, [Simon Bolívar] escreveu: “*Eu desejo, mais do que qualquer outro, ver formar-se na América a maior nação do mundo, menos por sua extensão e riquezas do que pela liberdade e glória*”.

(Flavio de Campos e Renan Garcia Miranda, “*Oficina de História — história integrada*”)

A intenção de uma América hispânica independente e formando um único país, entre outros motivos, não prevaleceu em razão:

- A) de um acordo entre franceses e ingleses, assinado no Congresso de Viena.
- B) do interesse espanhol em enfraquecer o poderoso Vice-Reinado da Nova Granada.
- C) dos fortes e decisivos interesses ingleses, norte-americanos e das próprias elites locais da América.
- D) da deliberada ação do Brasil, preocupado com a formação de um poderoso Estado na América.
- E) das tensões entre as elites do México e Peru, que disputavam a hegemonia sobre a América.

**Questão 78** - (PUC-RS) — A chegada da Corte Portuguesa ao Rio de Janeiro, em 1808, representou o início do desenvolvimento estrutural do Brasil, e também a introdução de princípios do liberalismo econômico na Colônia, com a “Abertura dos portos às nações amigas”. Essa abertura ocasionou:

- A) a diminuição dos laços coloniais, baseados no monopólio comercial mercantilista.
- B) a diminuição das liberdades coloniais, fundadas na estrutura liberal.
- C) o aumento da opressão colonial portuguesa, privilegiando-se a Inglaterra no comércio com o Brasil.
- D) o aumento de restrições ao comércio com a Inglaterra.
- E) o aumento da distribuição de privilégios aos franceses, quanto ao comércio com o Brasil.

**Questão 79** - A estrutura social do Brasil, com a independência:

- A) Altera-se bastante, com o rápido crescimento da classe média e da população urbana em geral.
- B) Praticamente não se altera, mantendo-se o controle da classe dominante agrária sobre a vida econômica e política do país.
- C) Sofre alterações significativas, na medida em que o crescimento comercial propiciou o rápido desenvolvimento da burguesia.
- D) Não se alterou, exceção feita à classe média, cujo crescimento no decorrer do Primeiro Reinado foi bastante rápido.
- E) Alterou-se bastante, na medida em que a participação política das classes mais baixas da população passou a ser muito grande.

**Questão 80** - (PUC-RJ) — Em 1834, foi promulgado o Ato Adicional à constituição do Império, visando promover a conciliação das diferentes facções políticas em que se dividiam os grupos dominantes. Com **exceção** de uma, são corretas as afirmativas seguintes, se considerarmos que ele:

- A) Conservou o Poder Moderador e a vitaliciedade do Senado, a fim de satisfazer os restauradores.
- B) Converteu a Regência Trina em Una, a fim de conceder maior poder aos moderados.

- C) Conservou o Conselho de Estado, a fim de atender à maioria restauradora.
- D) Promoveu medidas de descentralização política, a fim de atender aos exaltados.
- E) Promoveu um federalismo comedido, a fim de conter os excessos da oposição.

**Questão 81** - (FATEC) — A maioria antecipada de D. Pedro II interessava aos liberais e conservadores porque:

- A) Descentralizava o poder, facilitando a pacificação das rebeliões que ocorriam nas províncias.
- B) O Estado brasileiro estava plenamente consolidado durante o Período Regencial, sem ameaças aos interesses da aristocracia rural exportadora e escravista.
- C) A aristocracia rural exportadora e escravista esperava centralizar o poder através da monarquia, para pôr fim às manifestações populares e resolver suas próprias divergências.
- D) Isso afastaria a necessidade da aristocracia rural ter de resolver as dificuldades que surgiam, deixando tudo nas mãos do imperador.
- E) A maioria abriria caminho para uma maior interferência popular nas decisões políticas.

**Questão 82** - Assinale a afirmação **incorreta**.

- A) A *Rerum Novarum* defendia a reforma social pela luta de classes e pela revolução socialista.
- B) Na obra *Riqueza das Nações*, Adam Smith condena a intervenção do Estado na economia, defendendo que a “mão invisível” estabeleceria a normalidade entre os interesses, eixo do ideal da economia de mercado.
- C) Malthus defendia a diminuição da natalidade da população pobre para evitar que a desproporção entre o consumo e a produção resultasse em miséria, pestes, epidemias e mesmo guerras.
- D) Fourier defendia na evolução natural do homem cinco fases: a primitiva, a selvagem, a patriarcal, a civilizada e a da harmonia. Esta última seria alcançada com a criação dos falanstérios, as comunidades cooperativas livres.
- E) Owen adotou melhorias sociais (jardins de infância, armazéns vendendo a preços de custo) em sua fábrica de New Lanark (Escócia) e depois fundou colônias cooperativistas (New Harmony) nos Estados Unidos.

**Questão 83** - (FRMSJPR) — As idéias básicas do chamado socialismo científico (1848-1867) definem uma reforma da sociedade a fim de:

- A) Criar uma estrutura eminentemente fabril, que proporcione predominância do campo sobre a cidade.
- B) Conseguir a harmonia entre todos os homens organizados em comunidades.
- C) Estruturar a organização social com base em cooperativas agrícolas.
- D) Eliminar a propriedade privada, assim como o sistema capitalista.
- E) Gerar uma nova ordem que valoriza a espiritualidade do homem.

**Questão 84** - (GV) – A expansão imperialista européia, desencadeada na década de 1870, tinha por agentes e objetivos principais:

- A) A burguesia e a busca de mercado para produtos industriais e fontes de matéria-prima.
- B) Os monarcas e a busca de ouro, metais preciosos e escravos.
- C) As companhias de comércio, a busca de escravos cujo tráfico ganha impulso.
- D) As elites militares, devido à sua doutrina de expansão geopolítica.
- E) Os monarcas, militares e clero, numa empresa conjunta de conquista político-militar e catequese.

**Questão 85** - (PUC-RS) — Responder a questão com base nas afirmativas a seguir, referentes ao movimento abolicionista no Brasil.

I. As leis abolicionistas que antecederam a Lei Áurea (1888) são a Lei dos Sexagenários e a Lei do Ventre Livre.

II. A campanha abolicionista, que se iniciou oficialmente no Brasil por volta de 1879, associou-se à campanha republicana.

III. Os latifundiários da cana de açúcar e os cafeicultores foram os principais defensores da abolição da escravatura.

IV. A abolição da escravatura, em 1888, provocou a rápida absorção dos ex-escravos como mão de obra nas lavouras de café do Oeste Paulista.

Estão **corretas** apenas

- A) I e II.
- B) I e III.
- C) II e III.
- D) II e IV.
- E) I, II e IV.

**Questão 86** - (FURG-adaptada) — Leia o texto:

*“O sistema pecava pela base. Pretendia-se criar um regime de trabalho que pudesse substituir vantajosamente a mão-de-obra escrava na cultura cafeeira. Procurava-se a solução num regime misto que conciliasse fórmulas usuais em colônias de povoamento com o interesse do fazendeiro, habituado à rotina do braço escravo. O conflito revelou-se inevitável.”*

Emília Viotti da Costa.

A autora se refere:

I. à política brasileira de incentivo à imigração européia, especialmente italiana, na segunda metade do século XIX.

II. aos conflitos entre fazendeiros e colonos relacionados ao sistema de parceria nos latifúndios cafeicultores.

III. ao sistema que provocou a revolta dos colonos em diversas áreas cafeeiras de São Paulo e a proibição, por parte de alguns países, da emigração para o Brasil.

IV. ao sistema de parceria que levava o colono ao endividamento nos armazéns do fazendeiro.

São **corretas** apenas as afirmativas:

A) I e II.

B) I e IV.

C) II e III.

D) I, III e IV.

E) Todas são corretas.

**Questão 87** - O surgimento da República através do golpe político-militar de 15 de novembro de 1889 está vinculado:

A) À expansão da cafeicultura paulista e à difusão do positivismo entre parte da oficialidade do exército.

B) Ao descontentamento da classe média com o avanço das lutas abolicionistas.

C) À crescente organização das camadas populares, que passaram a orientar as ações do Exército brasileiro.

D) Ao fortalecimento da tradicional aristocracia escravista com a massiva penetração de imigrantes a partir da década de 1880.

E) Às pressões inglesas junto ao Partido Republicano Paulista, provocadas pelo adiamento da libertação dos escravos.

**Questão 88** - (FUVEST) — Sobre a Constituição de 1891 no Brasil, podemos afirmar que foi:

A) Parlamentarista e liberal.

B) Presidencialista e laica.

C) Centralizadora e liberal.

D) Positivista e laica.

E) Presidencialista e positivista.

**Questão 89** - Assinale a alternativa **incorreta**.

A) O período áureo da dominação oligárquica durante a República Velha é o que se estende da presidência de Prudente de Moraes à de Afonso Pena.

B) O movimento de Canudos, liderado por Antônio Conselheiro, pretendia restaurar a Monarquia no Brasil.

C) Uma das conseqüências da Guerra de Canudos foi o enfraquecimento político dos florianistas.

D) A causa principal da revolta popular de 1904 não foi a obrigatoriedade da vacina, mas, sim, as péssimas condições de vida das camadas populares.

E) O rompimento entre São Paulo e Minas Gerais, na campanha sucessória de 1909-1910, foi o primeiro abalo importante sofrido pelo sistema político oligárquico.

**Questão 90** - (Carlos Chagas-BA) — O Convênio de Taubaté (1906), por iniciativa dos presidentes de São Paulo, Minas Gerais e Rio de Janeiro, objetivava, sobretudo:

- A) Estabelecer medidas para incrementar a imigração européia.
- B) Defender o preço do café em face do excesso de produção.
- C) Definir normas para uma política desinflacionária.
- D) Garantir o pagamento do funding loan concedido pelos banqueiros Rothschild.
- E) Controlar a influência do imperialismo alemão (Theodor Wille e Cia.) na economia brasileira.

**Questão 91** - (OSEC) — São atributos do coronelismo:

- A) O poder político local ligado a uma economia essencialmente agroexportadora.
- B) O poder político local ligado a um sistema econômico agroindustrial e urbano.
- C) O poder político centralizado e o desenvolvimento urbano e industrial.
- D) O poder político centralizado e uma economia essencialmente agroexportadora.
- E) O poder político centralizado ligado a um grande desenvolvimento agroindustrial e urbano.

**Questão 92** - (UFV) — A Revolução Mexicana iniciou-se em 1910, com os movimentos de oposição ao governo ditatorial de Porfírio Díaz, institucionalizando-se no governo de Lázaro Cárdenas (1934-1939), com a criação do Partido Revolucionário Mexicano (PRM), hoje chamado de Partido Revolucionário Institucional (PRI). Sobre a Revolução Mexicana, todas as afirmativas a seguir são corretas, **exceto** uma. Qual é essa alternativa?

- A) Constituiu-se num processo do qual participaram segmentos sociais que reivindicavam a reforma agrária e a democracia política de cunho burguês.
- B) Foi apoiada pelo movimento camponês, que reivindicava o direito à posse da terra.
- C) Contrapôs-se ao governo ditatorial de Porfírio Díaz, apoiada pelos latifundiários, comerciantes, banqueiros mexicanos e investidores estrangeiros.
- D) Apresentou caráter anticapitalista, acarretando a socialização da terra e da indústria.
- E) Acarretou a nacionalização das companhias de petróleo e estradas de ferro, bem como a formação de sindicatos operários e camponeses.

**Questão 93** - (PUC-RS) — Em 1917, liderados por Lênin e Trotsky, os bolcheviques ganharam popularidade com as “Teses de Abril”, enunciadas na plataforma “paz, terra e pão”, que propunha

- A) a manutenção da Rússia na Primeira Guerra Mundial, a conquista da Manchúria e a formação dos soviets.
- B) a saída da Rússia da Primeira Guerra Mundial, a instauração de uma monarquia parlamentar e a formação da Guarda Vermelha.
- C) a entrada da Rússia na Primeira Guerra Mundial, a instalação da ditadura do proletariado e a adoção de uma nova política econômica (a NEP).
- D) a manutenção da Rússia na Primeira Guerra Mundial, o domínio dos estreitos de Bósforo e Dardanelos e a formação de um parlamento (DUMA).
- E) a saída da Rússia da Primeira Guerra Mundial, a divisão das grandes propriedades entre os camponeses e a regularização do abastecimento interno.

**Questão 94** - (MACK) — Com a morte de Lênin em 1924, a luta pelo poder na Rússia culminou com a vitória de:

- A) Trotsky, que apoiava a revolução mundial, ou seja, a destruição do capitalismo nos demais países.
- B) Koltchak, líder dos russos brancos que pretendia o retorno do capitalismo.
- C) Stálin, que pretendia concentrar-se na implantação do socialismo na Rússia e na posterior expansão do movimento na Europa.
- D) Kerensky, que defendia a continuidade da participação russa na Primeira Guerra Mundial.
- E) Kamenev, um dos mais íntimos colaboradores de Lênin.

**Questão 95** - (UEL-adaptada) — *Fordismo* é um termo que se generalizou a partir da concepção do italiano Antonio Gramsci, que o utilizou para caracterizar o sistema de produção e gestão empregado por Henry Ford, em sua fábrica, a Ford Motor Co., em Highland Park, Detroit (EUA), em 1913. O método fordista de organização do trabalho produziu um surpreendente crescimento da produtividade, garantindo, assim, produção em larga escala para consumo de massa. O papel desempenhado pelo fordismo, enquanto sistema produtivo, despertou, por exemplo, a atenção de Charles Chaplin, que o retratou com ironia no filme *Tempos modernos*.

Assinale a alternativa que apresenta características desse método de gestão e de organização técnica da produção de mercadorias:

- A) Unidade entre concepção e execução, instaurando um trabalho de conteúdo enriquecido, que preserva, assim, as qualificações dos trabalhadores.
- B) Substituição do trabalho fragmentado e simplificado, típico da Revolução Industrial, pelas “ilhas de produção”, onde o trabalho é realizado em equipes.
- C) Supressão progressiva do trabalhador taylorizado e, conseqüentemente, combate ao trabalho desqualificado, restituindo-se, em seu lugar, o trabalhador polivalente.
- D) Controle dos tempos e movimentos do trabalho, com a introdução da esteira rolante, e de salários mais elevados em relação à média paga nas demais empresas.

E) Redução das distâncias hierárquicas no interior da empresa, como forma de estimular o trabalho em grupos, resultando em menos defeitos de fabricação e maior produção.

**Questão 96** - (GV) — Do ponto de vista militar, o que caracterizou a Primeira Guerra Mundial?

- A) Foi a primeira guerra em que se envolveram blocos de nações.
- B) Foi a primeira guerra em que se utilizaram canhões.
- C) Ficou conhecida como a guerra das trincheiras.
- D) Ficou conhecida como a guerra de domínio do Atlântico.
- E) Ficou conhecida como a guerra bacteriológica.

**Questão 97** - (UFMG) — A aplicação do liberalismo envolve:

- A) liberdade civil, desigualdade econômica e propriedade privada.
- B) liberdade social, igualdade econômica e propriedade privada.
- C) liberdade política, igualdade econômica e propriedade privada.
- D) liberdade política, desigualdade social e propriedade coletiva.
- E) liberdade econômica, igualdade social e propriedade coletiva.

**Questão 98** - (UFMS) — Considerando a crise do capitalismo liberal nos EUA, nas décadas de 1920 e 30, é possível afirmar:

- A) A quebra da Bolsa de Valores de Nova York, em outubro de 1929, foi o fato gerador da crise de superprodução da economia norte-americana.
- B) A produção industrial mantida num patamar elevado, sem que houvesse mercado consumidor, foi o elemento desencadeador da crise.
- C) O crescimento econômico dos anos 20 aparelhou a agricultura e a indústria dos EUA, para enfrentar as crises decorrentes da retração do mercado.
- D) A Bolsa de Valores de Nova York, ao longo da década de 1920, pautou seus negócios com objetividade, sem permitir especulações com o valor das ações.
- E) A aspiração por enriquecimento rápido e fácil, comum na sociedade dos EUA, não colaborou para a quebra da Bolsa de Valores de Nova York.

**Questão 99** - (GV) — Como consequência da Grande Depressão em que se encontravam durante os anos que se seguiram a 1929, as nações capitalistas empreenderam um notável esforço no sentido de sua recuperação. Qual a principal característica política deste esforço?

- A) Suspensão dos direitos políticos dos partidos trabalhistas.
- B) Abstenção de qualquer interferência estatal no setor privado.
- C) Maior intervenção do Estado na economia.

D) Abandono das políticas de ajuda econômica aos setores deficitários.

E) Estabelecimento generalizado de regimes totalitários.

**Questão 100** - (UFC-adaptada) — A chamada Terceira Revolução Industrial ou “Revolução Técnico-Científica” fez surgirem novos processos de produção e grandes mudanças nas relações de trabalho dentro das empresas capitalistas. A esse respeito, marque a alternativa **correta**.

A) As novas tecnologias favoreceram a informatização do processo produtivo e a ampliação do emprego de modo geral.

B) Surgiu o fordismo: conjunto de métodos para a produção em série, com os quais o operário produz mais em menos tempo.

C) O sistema de trabalho repetitivo foi ampliado, e a especialização do operário torna-se fundamental.

D) Um método mais ágil e flexível foi desenvolvido, adaptado ao mercado, que prioriza o controle de qualidade, conhecido por *just-in-time*.

E) A habilidade do trabalhador está restrita a uma única tarefa, favorecendo o aumento da produtividade, método conhecido como taylorismo.

Gabarito:

1	B	26	B	51	A	76	C
2	C	27	C	52	B	77	C
3	C	28	A	53	A	78	A
4	A	29	C	54	A	79	B
5	B	30	D	55	B	80	C
6	D	31	D	56	B	81	C
7	C	32	E	57	B	82	A
8	B	33	D	58	C	83	D
9	C	34	E	59	E	84	A
10	C	35	E	60	A	85	A
11	E	36	A	61	D	86	E
12	C	37	E	62	C	87	A
13	C	38	A	63	B	88	B
14	A	39	D	64	D	89	B
15	D	40	E	65	E	90	B
16	E	41	C	66	E	91	A
17	B	42	E	67	B	92	D
18	E	43	D	68	C	93	E
19	B	44	E	69	B	94	C
20	A	45	A	70	B	95	D
21	E	46	D	71	B	96	C
22	A	47	C	72	E	97	A
23	C	48	E	73	B	98	B
24	B	49	E	74	D	99	C
25	A	50	A	75	E	100	D